

Entre 2010 et 2020, la population mondiale augmentera ....

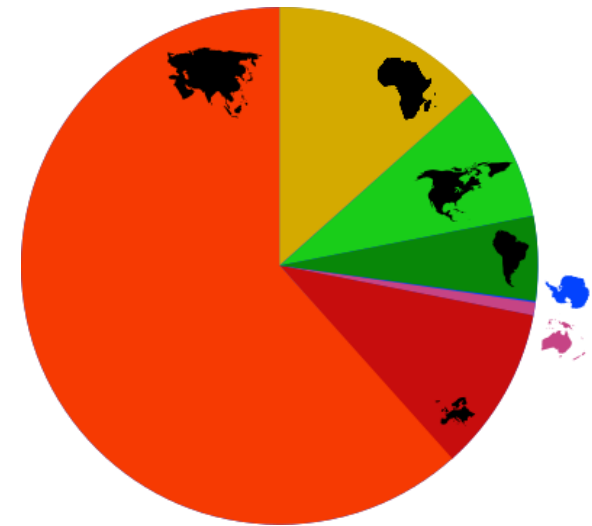
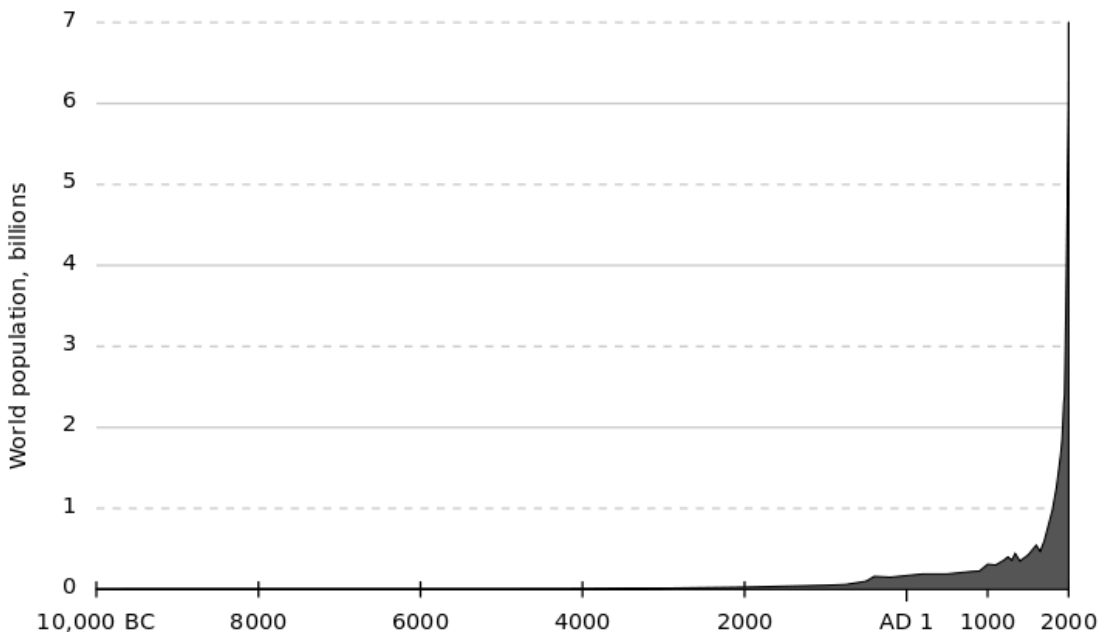
A – Autant que durant tout le XXème siècle

B – Autant que depuis les origines de l'homme jusqu'à la seconde guerre mondiale

C – Autant qu'au cours du dernier millénaire.

# Entre 2010 et 2020, la population mondiale augmentera...

- Autant que durant tout le XXème siècle
- Autant que depuis le début de notre ère jusqu'à la seconde guerre mondiale
- Autant qu'au cours du dernier millénaire.



L'essentiel de cette augmentation  
se réalisera en...


A – Afrique

B – Asie

C – Amérique(s)

# L'essentiel de cette augmentation se réalisera en

- a. Afrique (14% de la population mondiale aujourd'hui, 22% en 2050)
- b. Asie
- c. Amérique(s)



La Chine représente aujourd'hui 22% de la population **active** mondiale. L'Afrique, aujourd'hui 12% de la population active mondiale à égalité avec l'Europe, prendra la place de la Chine en 2050 (**Afrique = 22%**, Chine = 14%, Europe = 6,5%).

L'âge moyen de l'humanité (28 ans) va...

A – Décroître

B – Croître

C – Stagner

L'âge  
moyen de  
l'humanité  
(28 ans) va

- a. décroître
- b. croître
- c. stagner



Pour la première fois en 2020 dans l'histoire de l'humanité, le nombre des plus de 65 ans excèdera celui des moins de 5 ans.

En particulier, 300 millions de Chinois auront plus de 60 ans et, probablement, aucun système de retraite généralisé.

D'ici 2040, la population mondiale augmentera de 30%. La population des plus de 65 ans augmentera simultanément de ...

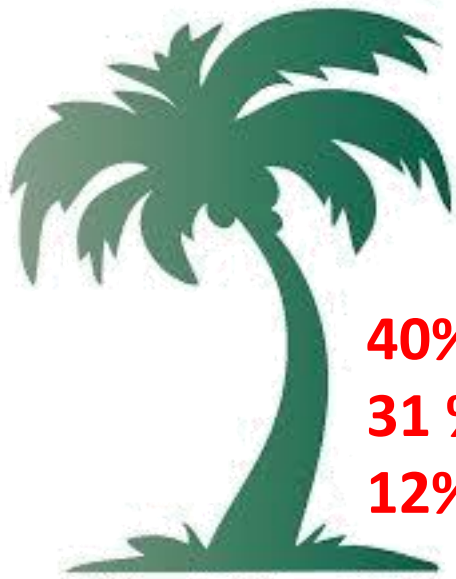
A – 160%

B – 250%

C – 30%

D'ici 2040, la population mondiale augmentera de 30%. La population des plus de 65 ans augmentera simultanément de **160%**. Mais celle des plus de 80 ans augmentera dans le même temps de **250%**.

...Révolution  ?



**40%** de la population en Guadeloupe  
**31 %** en Métropole  
**12%** en Guyane



Le nombre de gens ne vivant pas dans leur pays de naissance est ...

A – 100 millions

B – 400 millions

C – 200 millions

# Le nombre de gens ne vivant pas dans leur pays de naissance est

- a. 100 millions
- b. 400 millions
- c. 200 millions

... en 2010, mais **400** millions en 2020\*.

Le suivi des migrations est rendu complexe par les nouveaux dispositifs de contrôle (Reforme administrative française du 1<sup>er</sup> Juin 2009)

L'accroissement de la population mondiale  
sera ...

A – Urbain et rural

B – Beaucoup plus urbain que rural

C Beaucoup plus rural qu'urbain

# 2010

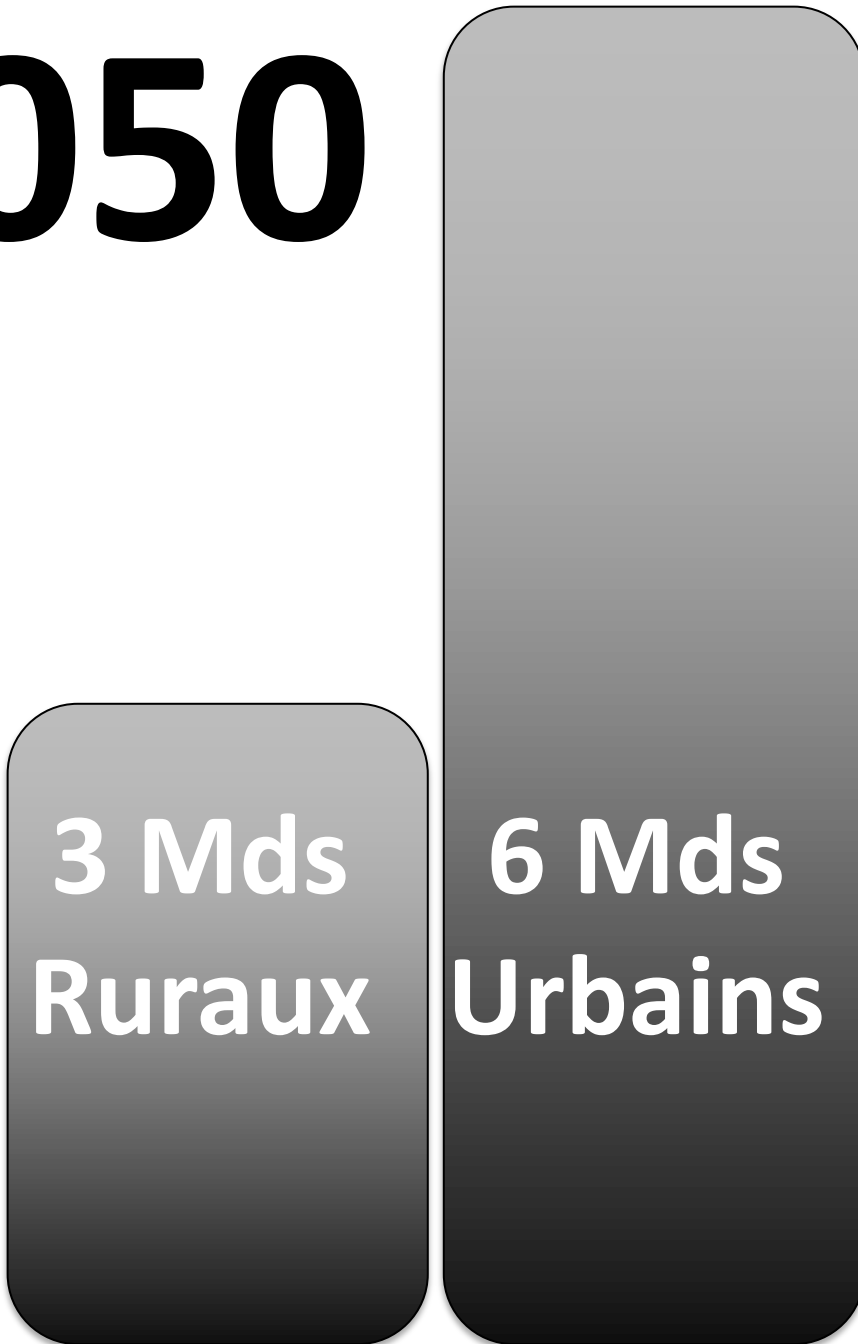
3 Mds  
Ruraux

3 Mds  
Urbains

# 50%

population  
mondiale  
vivant dans  
des  
ghettos.

# 2050



Une ville  
de  
**un  
million**  
d'habitants à  
construire tous  
les 5 jours.

## La pyramide des âges dans les territoires OM montre :

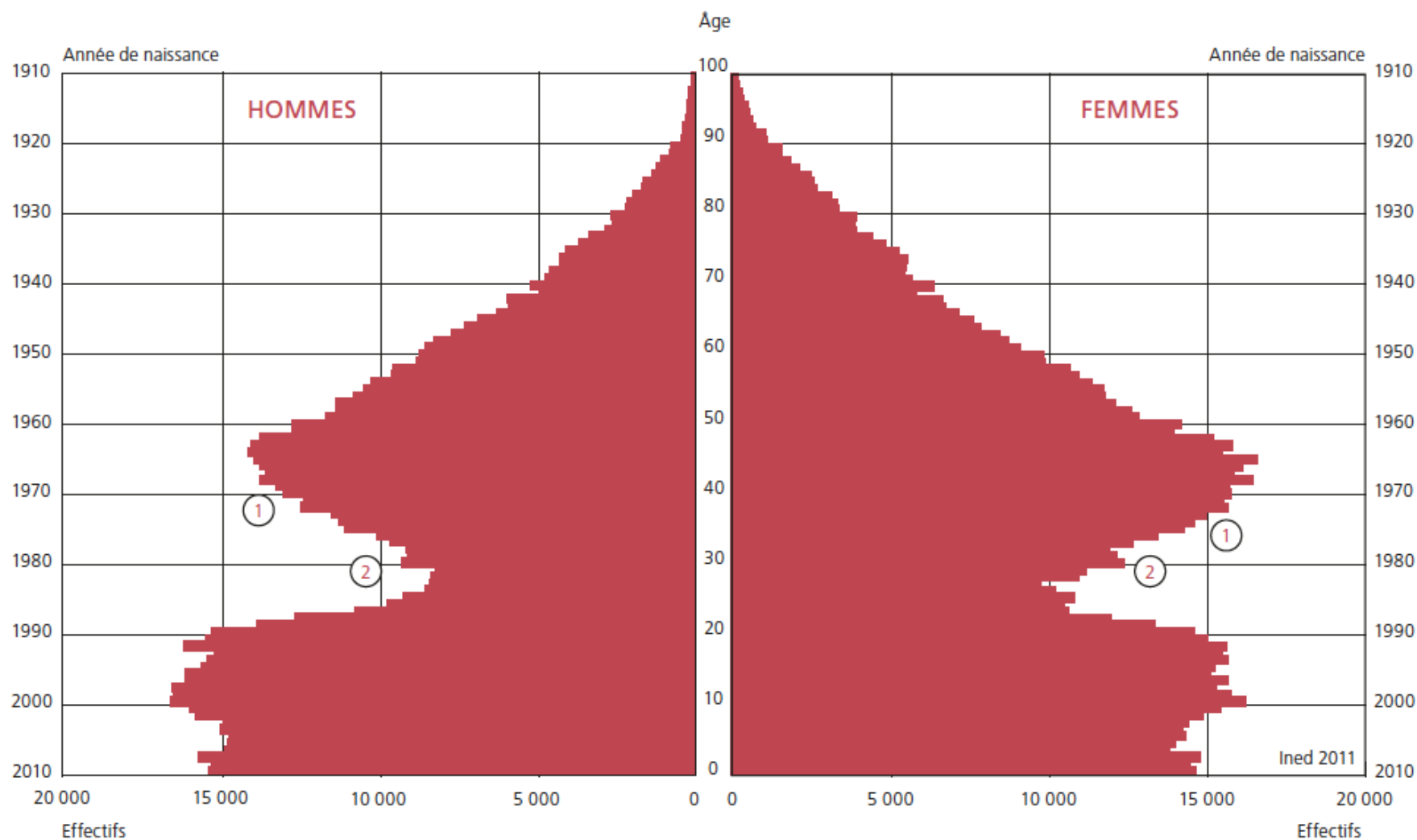
A – Un resserrement de la base

B – Un creux au milieu

C – Un âge médian inf. à celui de la métropole

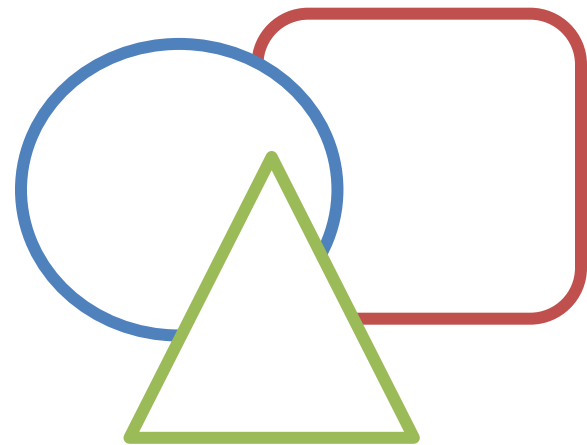
D – Une couleur bordeaux

Figure 2. Pyramide des âges des départements d'outre-mer au 1<sup>er</sup> janvier 2011



① Début de la chute de la fécondité    ② Creux lié à la chute de la fécondité et à l'émigration des jeunes en métropole

# Géométrie



Renflement  
Le creux dans le milieu  
Resserrement de la base



# Démographie

prospective



# Vieillissement

*Fort rétrécissement des classes 30-40*

Chute rapide et forte fécondité

# Economie prospective

Services et aménagement  
Infrastructures et agilité  
Perspectives d'emploi

3

Facteurs de  
Stress

enjeux

difficiles à concilier

Pistes de

Réponses